

Prénom :



NUMERUS 1




J'apprends à lire, écrire, représenter, décomposer les nombres.

J'apprends à mémoriser la suite des nombres, à placer un nombre sur une droite.

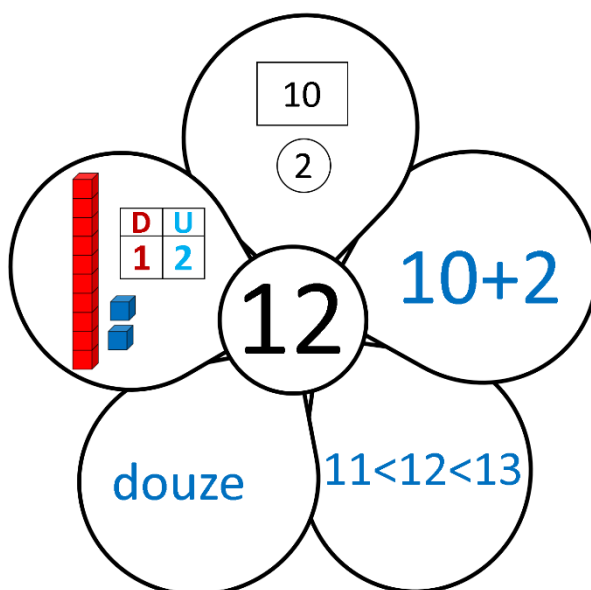
J'apprends à dénombrer pour construire des nombres.

J'apprends à comparer, ordonner et encadrer les nombres.



Le nombre 12

→ La fleur du nombre 12.

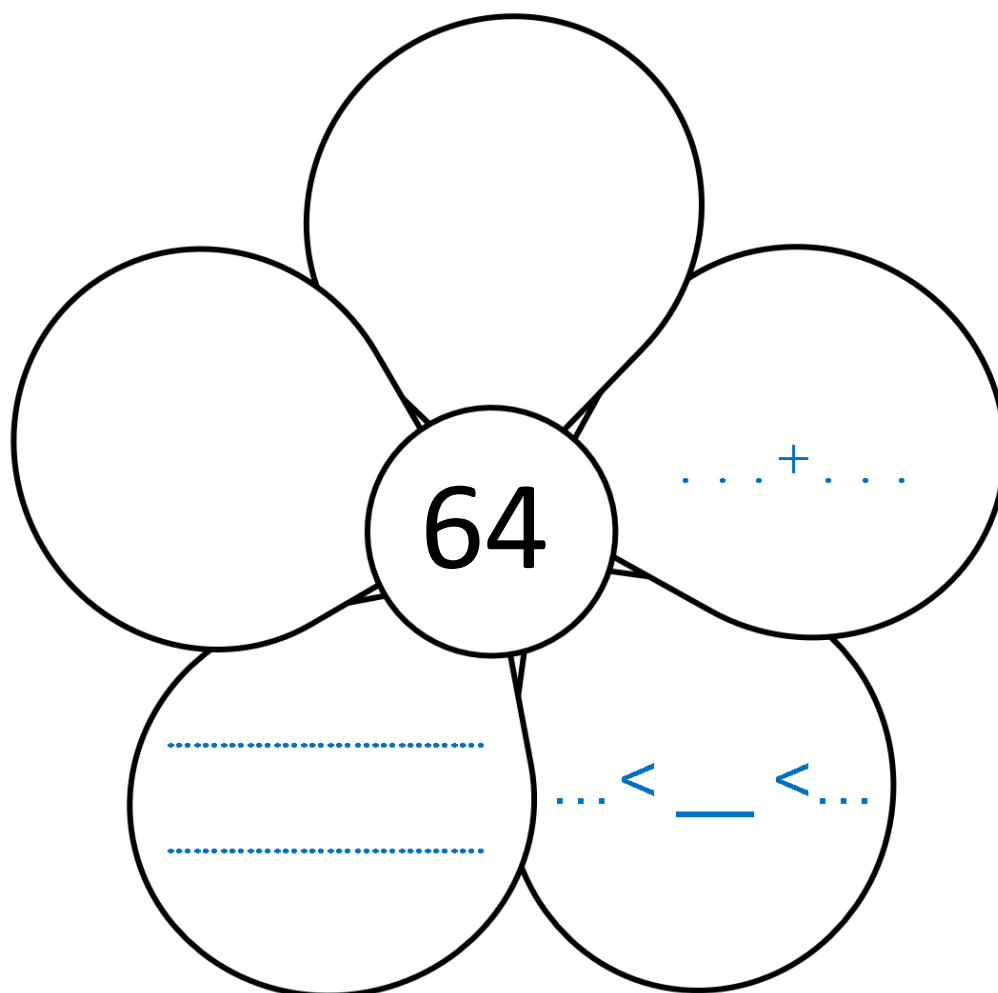




NUMERUS 1

1

→ **Complète** la fleur.



D	U
...	...

2

→ **Complète** les suites.

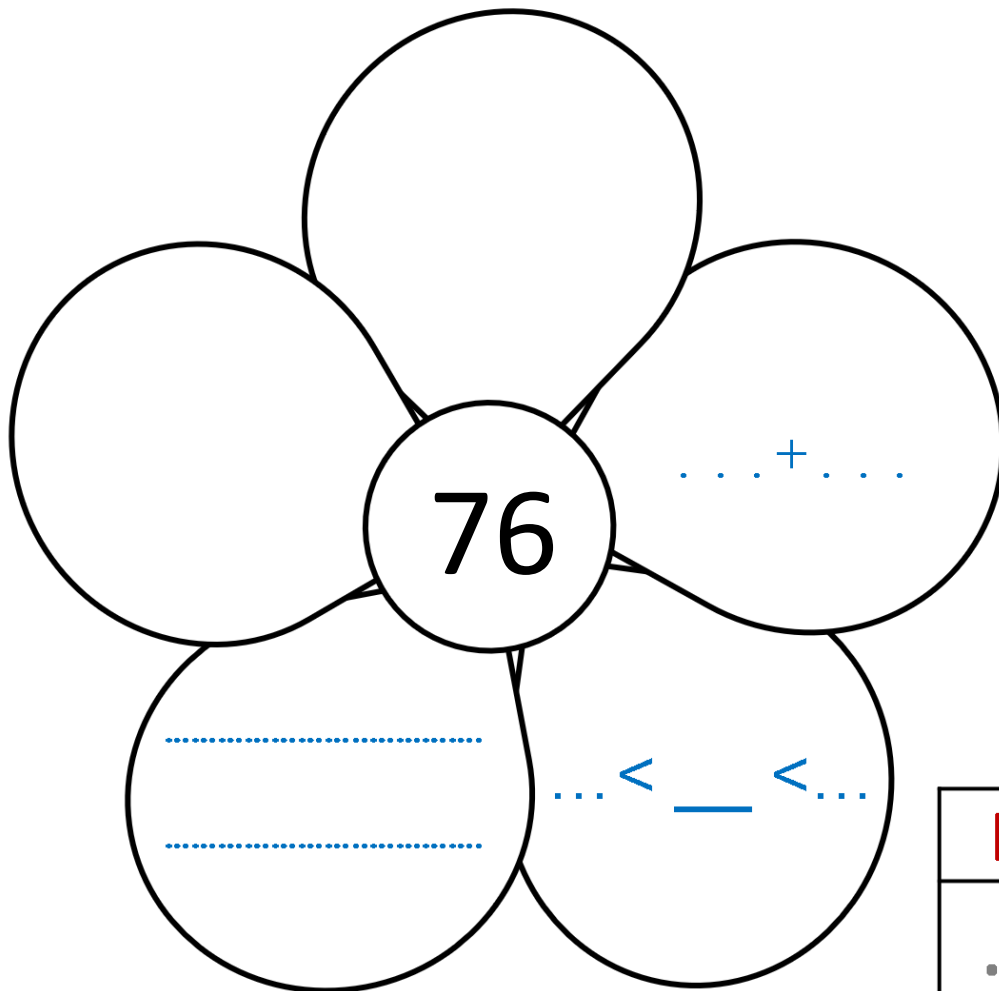




NUMERUS 1

3

→ Complète la fleur.



D	U
...	...

4

→ Complète les suites.

49
...	59



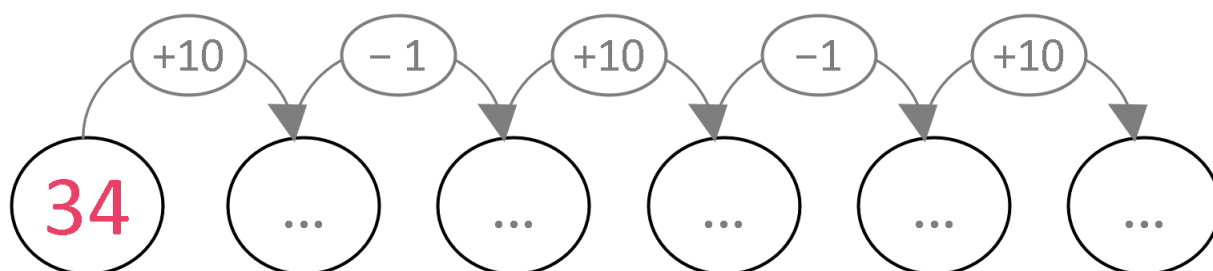
NUMERUS 1

5

→ **Complète** le tableau des nombres.

	1	2	3	...	5	6	7	...	9
10	11	12	13	14	15	...	17	...	19
20	21	24	25	26	27	...	29
30	31	32	33	34	...	36	37	38	39
40	41	42	43	44	45	46	47	48	...
50	...	52	53	54	55	...	57	...	59
60	61	62	...	64	65	66	67	68	...
70	71	72	76	77	...	79
80	...	82	83	84	85	86	...	88	89
...	93	94	...	96	...	98	99

1. **Colorie** en rouge la famille de soixante.
2. **Entoure** en bleu tous les nombres qui ont 5 unités.
3. **Utilise** le tableau pour compléter la suite de calculs.

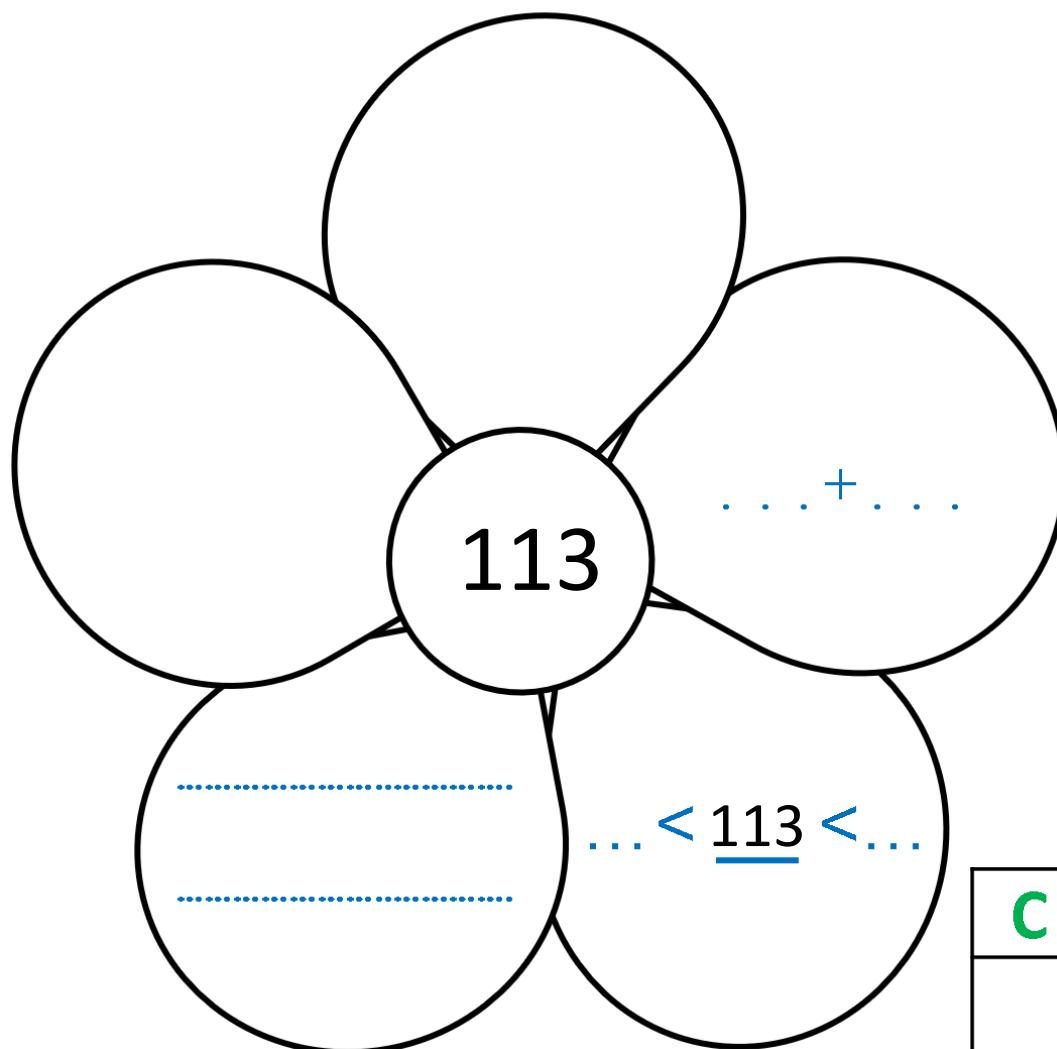




NUMERUS 1

6

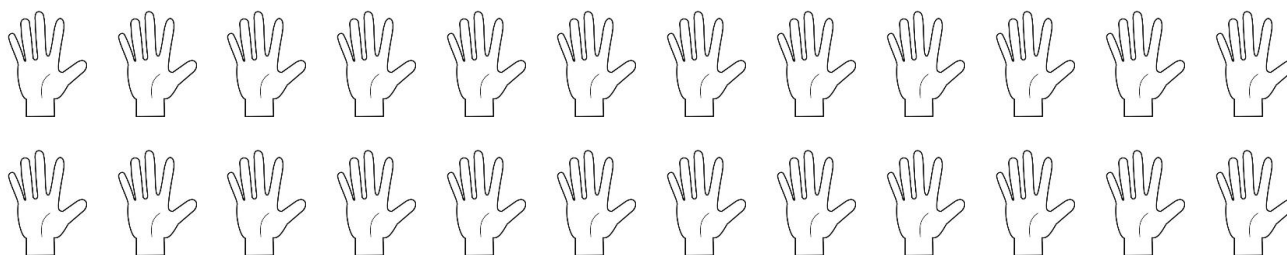
→ Complète la fleur.



C	D	U

7

→ Entoure 100 doigts.





NUMERUS 1

8

→ **Ecris** le nombre en chiffres en t'aidant du tableau.



C	D	U
.	.	.

Nombre :


.....



C	D	U
.	.	.

Nombre :


.....



C	D	U
.	.	.

Nombre :


.....



C	D	U
.	.	.

Nombre :


.....



C	D	U
.	.	.

Nombre :

.....



C	D	U
.	.	.

Nombre :

.....



NUMERUS 1

9

→ **Compare** avec le symbole $<$ ou $>$.

13 ... 12

19 ... 20

40 ... 35

29 ... 13

31 ... 33

64 ... 46

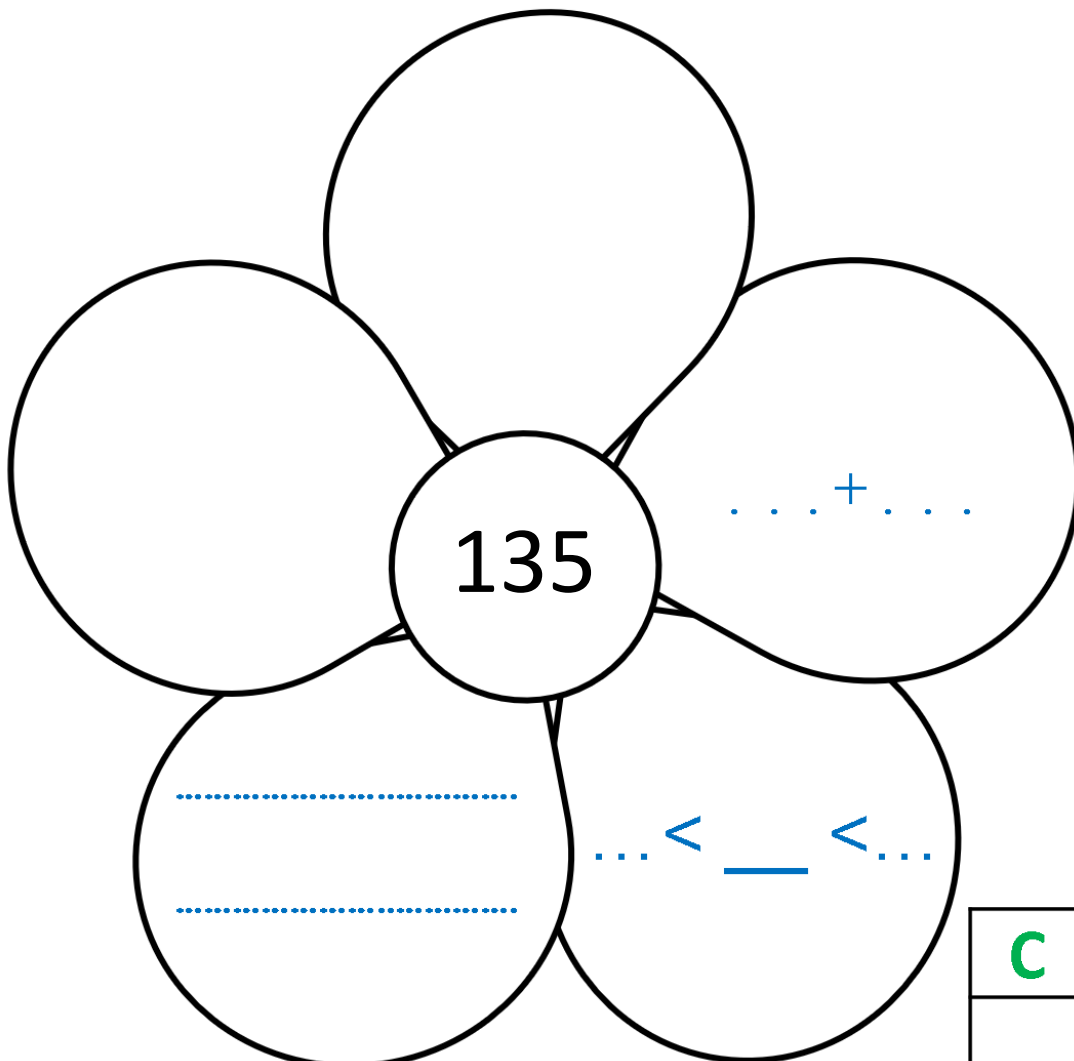
15 ... 16

79 ... 19

80 ... 79

10

→ **Complète** la fleur.





C	D	U



NUMERUS 1

→ Entoure 110 100 œufs et 100 doigts.

11



→ Entoure :

12

- la 4^e personne de la file d'attente.



- les chevaux qui sont derrière le 2^e cheval.



- le 3^e wagon après la locomotive.






NUMERUS 1

13


→ **Écris** le nombre en chiffres en t'aidant du tableau



C	D	U
.	.	.

Nombre :


.....



C	D	U
.	.	.

Nombre :


.....



C	D	U
.	.	.

Nombre :

.....



C	D	U
.	.	.

Nombre :

.....

→ **Complète** avec l'écriture en chiffres.

14

cent-sept

→

cent-vingt-quatre

→

cent-treize

→

cent-douze

→

cent-quarante-et-un

→

cent-cinquante-neuf

→



NUMERUS 1

15

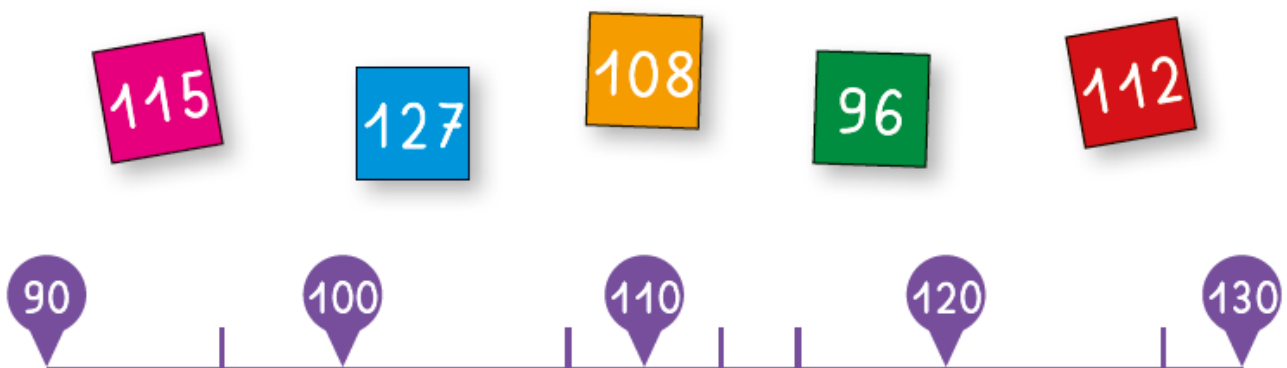
→ **Dénombrer** les abeilles (pense à grouper par 10).



C	D	U
.	.	.


16

→ **Relie** les étiquettes au bon endroit.



17


→ **Ecris** le nombre en chiffres en t'aidant du tableau



C	D	U
.	.	.

Nombre :

.....



C	D	U
.	.	.

Nombre :

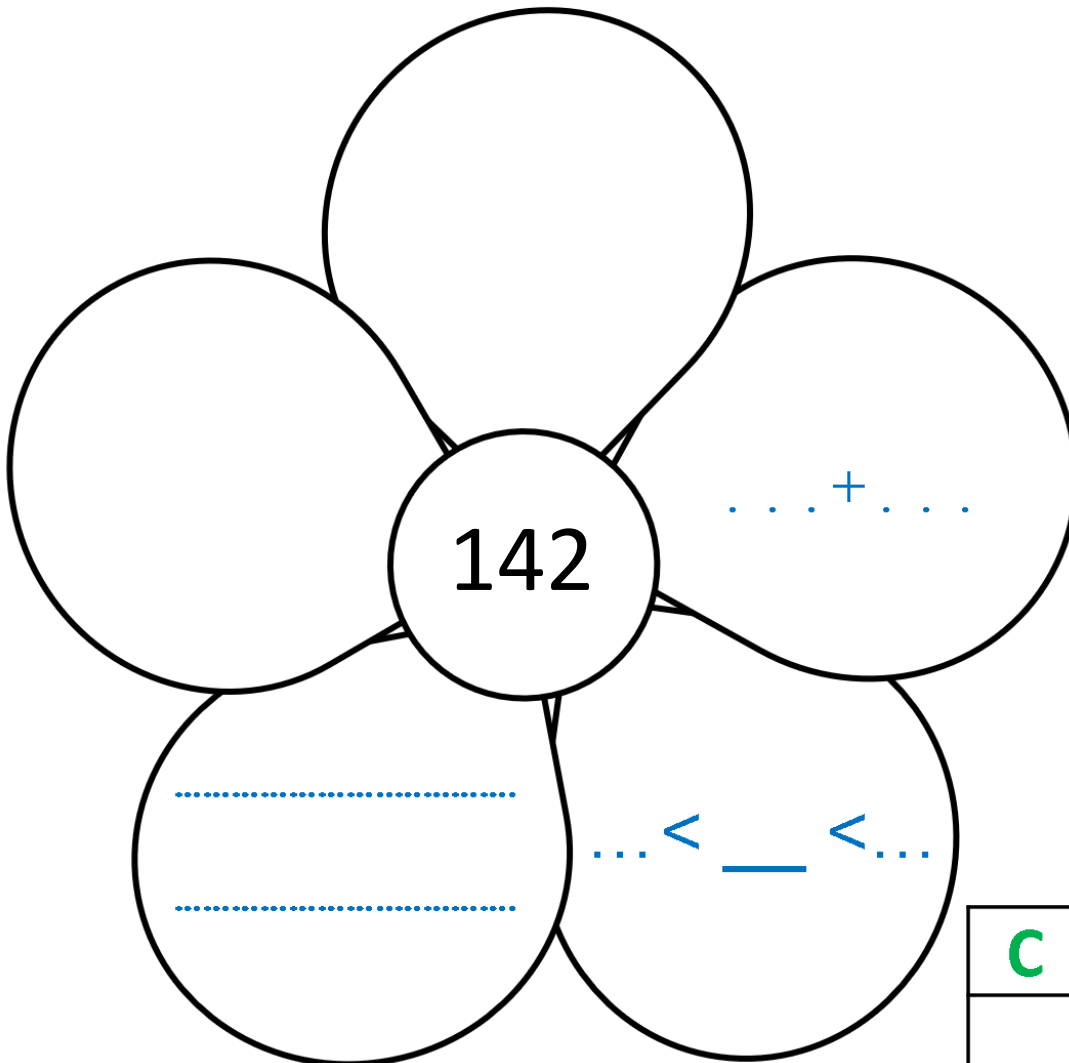
.....



NUMERUS 1

18

→ **Complète** la fleur.



C	D	U

19

→ **Encadre** les nombres à la dizaine comme le modèle.

20 < 24 < 30

... < 87 < ...

... < 72 < ...

... < 126 < ...

... < 135 < ...

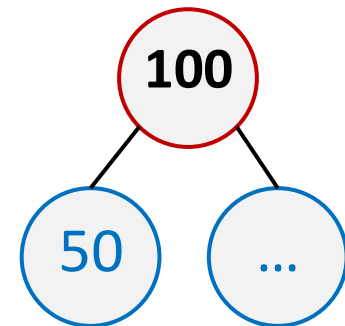
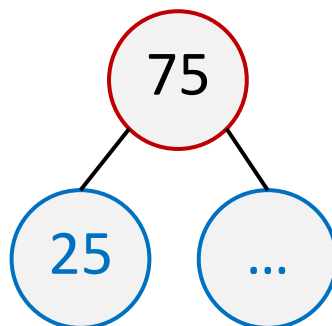
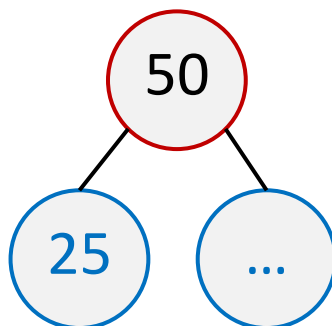
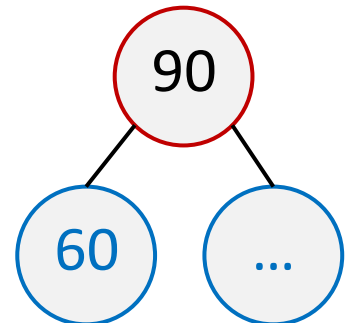
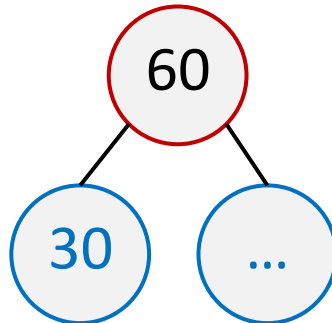
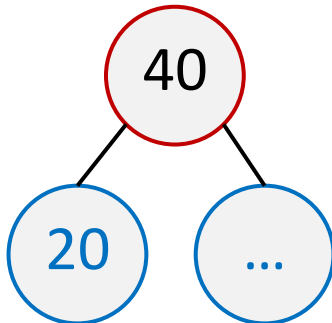
... < 155 < ...



NUMERUS 1

20

→ **Complète** les décompositions.



21


→ **Écris** le nombre en chiffres en t'aidant du tableau



C	D	U
.	.	.

Nombre :

.....



C	D	U
.	.	.

Nombre :


.....



NUMERUS 1

22

→ **Dénombrer** les cerises (pense à grouper par 10).



C	D	U

23

→ **Complète** avec l'écriture des nombres.

142 → cent-.....

126 →

191 →-onze

..... → cent-soixante-seize

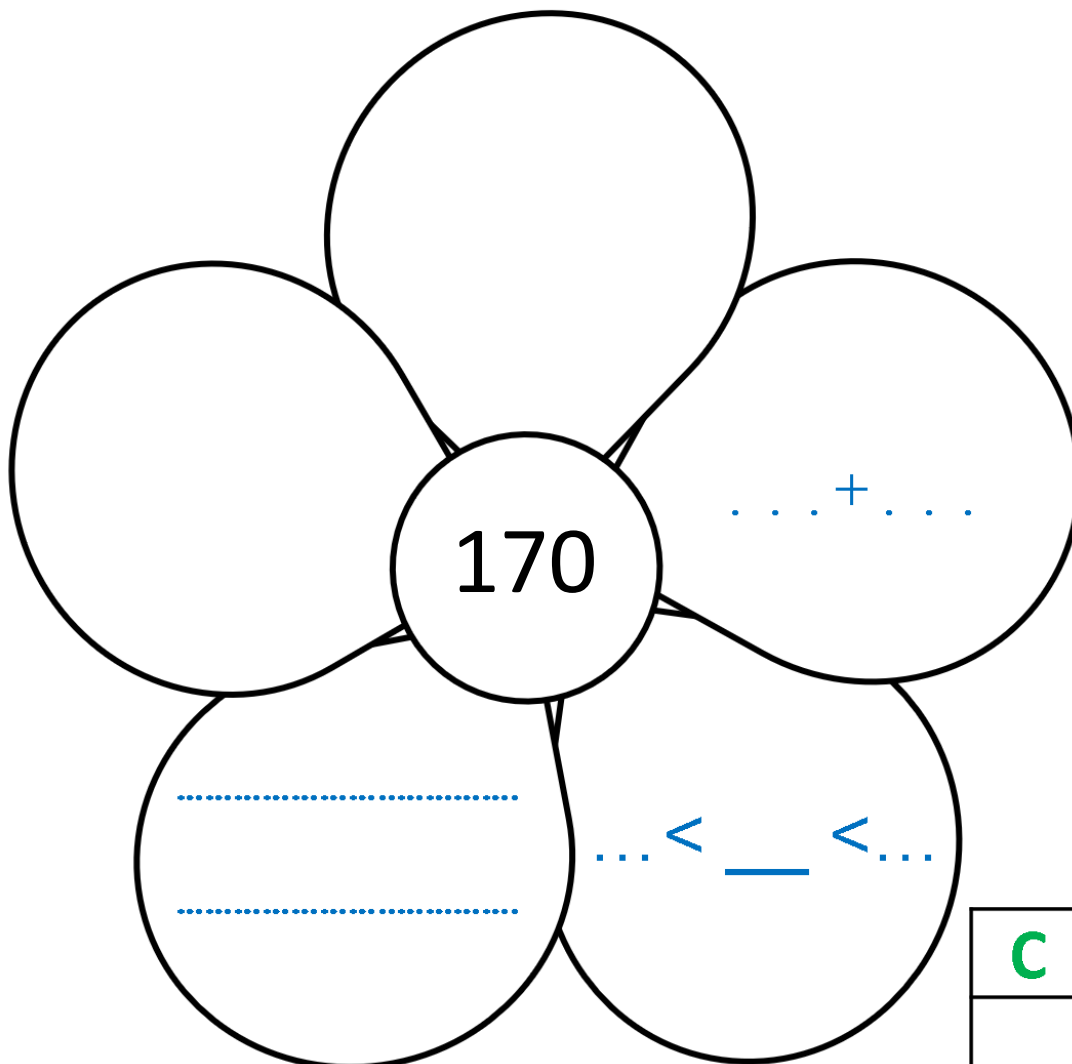
167 →



NUMERUS 1

24


→ Complète la fleur.



C	D	U

25

→ Complète la droite graduée.





NUMERUS 1

26

→ **Compare** avec le symbole $<$ ou $>$.

99 101

149 110

143 134

179 177

106 160

105 106

185 184

164 184

27

→ **Range** les nombres dans l'ordre décroissant.



102 ; 135 ; 199 ; 187 ; 156

... $>$... $>$... $>$... $>$...

28

→ **Range** les nombres dans l'ordre croissant.



109 ; 147 ; 141 ; 139 ; 163

... $<$... $<$... $<$... $<$...



NUMERUS 1

29

→ Complète comme le modèle.

124

=

100+20+4

=

cent-vingt-quatre

135

=

... + ... + ...

=

.....

158

=

... + ... + ...

=

.....

165

=

... + ... + ...

=

.....

104

=

... + ... + ...

=

.....

180

=

... + ... + ...

=

.....